

<範圍：L5—L6 >

【劃卡代號：51】

班級： 座號： 姓名：

※答案卡限用 2B 鉛筆劃記，答案請劃記明確；若有劃記錯誤，請擦拭乾淨。分數以電腦讀卡分數為準。

一選擇題：共 15 題（共 45 分：1-15 題，每題 3 分）

() 1. 小丸要作一份「清末中國的面面觀」的論文，他想去圖書館蒐集這方面的資料，以下哪些書籍或是報刊是他可以列為參考的對象？(甲)《申報》(乙)《勸放腳圖說》(丙)《幾何原本》(丁)《上海男子劉海之變遷》(戊)《萬國公報》(己)《飛影閣畫報》(庚)《自由中國》(辛)《點石齋畫報》

(A)甲乙丙丁戊己 (B)丙丁戊己庚辛 (C)乙丙丁戊己庚 (D)甲乙丁戊己辛

() 2. 梅西是清末中國的基督徒，他本來有訂一份基督教所創刊的《教會新報》(報刊內容多為教義、教務資訊為主)，這是由美國傳教士在上海所創刊的。但近來這份報紙的內容及風格有所轉變，內容涉及了政治、中外關係、教育、科學等議題，關注的視角變得更加開闊。請問：梅西訂的是下列哪一份報紙？

(A)《申報》 (B)《中國女報》 (C)《飛影閣畫報》 (D)《萬國公報》。

() 3. 「某」位大臣上書於皇帝：「個人以為最近銀的價錢持續上升，每一兩銀子，換 1600 個銅錢零，這並不是因為國內消耗了這些銀兩，而是流到外國人的手上。…用中國有用的財富，來填滿外國無底的洞，交換這個害人之物，幾十年下來，國無可禦敵之兵！」上文中「某位」是指何人？而他上奏書給哪一位皇帝？

(A) 林則徐；道光 (B) 李鴻章；咸豐 (C) 劉銘傳；光緒 (D) 康有為；光緒

() 4. 下列是姆巴佩老師上課時的重點摘要。請問：老師最可能是講述哪一主題？

- 放足斷髮風氣日盛。
- 西式馬車、人力車、自行車出現於街頭。
- 煤油燈、煤氣燈、電燈的被引進。

(A) 十九世紀初的日本 (B) 清末的上海生活方式 (C) 明末清初的台北街頭 (D) 元末明初的北京生活

() 5. 右圖是清末自英國輸入某商品的數量變化。請問：依史實判斷，

英國將此商品大量輸入中國的目的為何？

- (A) 平衡與中國的貿易逆差
(B) 削弱中國的軍事國防
(C) 打擊中國對外貿易關係
(D) 協助中國抑制人口成長



() 6. 小承在網路上查到一份資料『神出洞，仙下山，附著人體把拳玩。兵法藝，都學全，平定鬼子不費難。拆鐵道，拔線杆，緊急毀壞火輪船。大法國，心膽寒，英美德俄盡蕭然。洋鬼子，盡除完』，請問這資料和下列何者有關？

(A) 外國攻陷北京 (B) 義和團的事蹟 (C) 明清天朝制度 (D) 康梁維新變法

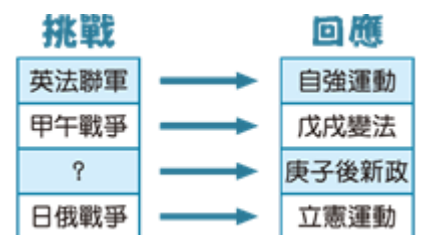
() 7. 弘道國中八年十五班的同學，在歷史課堂上排演「戊戌變法」的話劇。請問：下列哪一位同學所扮演的角色，其政治立場與另外三位截然不同？

- (A) 小弘扮演的光緒皇帝 (B) 小道扮演的慈禧太后
(C) 阿國扮演的康有為 (D) 中中扮演的梁啟超

() 8. 清末中國在遭受「挑戰」後，朝廷就會力求圖強的產生「回應」，如右圖之所示。

請問：圖中的「？」處應填上下列哪一個事件？

- (A) 戊戌政變 (B) 鴉片戰爭
(C) 中法戰爭 (D) 八國聯軍



() 9. 由於戰爭失敗，國勢動盪不安，光緒皇帝下詔改革，此即「戊戌變法」。請問：下列何者可能是這次改革地內容？

- (A) 著重模仿西方器物，講求船堅炮利
(B) 謀求制度層面的革新，並建立新式教育體制
(C) 設立中國第一個辦理外交事務的現代機構「總理各國事務衙門」
(D) 廢除科舉，結束這項持續一千三百多年的選才辦法

() 10. 內馬爾是一個美國商人，他在二十世紀初來到中國通商口岸做生意：(甲)街道上有著政府提供的網際網路 (乙)在租界租了一棟有自來水系統的房屋 (丙)偶爾和其他商人一起去欣賞歌劇 (丁)中國有西餐廳讓他很懷念家鄉菜餚。請問：上述何者是他可在中國通商口岸的生活體驗？

(A) 乙丙丁 (B) 甲乙丙 (C) 甲丙丁 (D) 甲乙丁

() 11. 右圖是某時期上海報刊上所刊載的時事報導，此一報導最可能是在描繪下列何時的情景？

【111 會考補考】

(A) 18 世紀前期 (B) 16 世紀前期
(C) 17 世紀後期 (D) 19 世紀後期



一名日本軍官在本地去世，送葬隊伍由百餘名日本軍人吹奏哀樂，引導運棺馬車緩緩而行，最後則是由海軍將領和日本領事隨行。隊伍經過英國租界，往墓地而去。

() 12. 近年來，有一則家戶喻曉的廣告詞：「1 元!不只是 1 元，加一元，多一件……，所有的城市我最愛屈臣氏。」廣告中的「屈臣氏」起源於清帝國前期唯一開放的港口，於是其得名於粵語的音譯。由此可推知，「屈臣氏」應起源於何地？

(A) 廈門 (B) 廣州 (C) 上海 (D) 北京

() 13. 1843 年，清朝某地第一家飯店開業，因地點偏僻，交通不便，初期的經營狀況不佳。19 世紀後期，該飯店卻成了中國最早接受西方現代事物的場所：1867 年，該飯店最早使用煤氣；1882 年安裝電燈；1883 年，最早使用自來水。請問：此家飯店應位於何處？

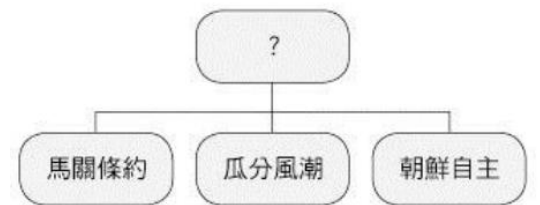
(A) 北京 (B) 台北 (C) 香港 (D) 上海

() 14. 小丸讀到了一篇清末的「某位」女性所寫的文章如下：【諸位，你要知道天下事靠人是不行的，總要求己為是，當初那些腐儒說甚麼「男尊女卑」、「女子無才便是德」、「夫為妻綱」這些胡說，我們女子要是有志氣的，就應當號召同志與他反對】，請問「某位」應該是指何人？

(A) 慈禧太后 (B) 秋瑾 (C) 秋風 (D) 秋瑾

() 15. 柯學家在整理上課筆記時，依歷史老師所說的畫出右圖的組織圖，但是他不小心將上面的部分漏掉了，他應該填上什麼才正確？

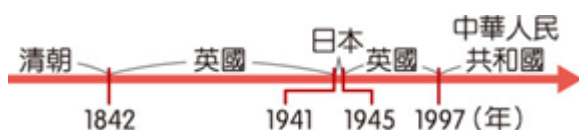
(A) 甲午戰爭 (B) 八國聯軍 (C) 鴉片戰爭 (D) 英法聯軍



二、歷屆會考試題：共 7 題（共 23 分：16-20 題，每題 3 分；21-22 題，每題 4 分）

() 16. 下圖呈現的是某地不同時期統治者的演變情況，此地最可能是下列何者？

【107 會考】



(A) 琉球 (B) 香港 (C) 台灣 (D) 澳門

() 17. 右表是一件發生在中國境內的案件審判概況，根據內容判斷，此審判最可能出現在下列何時？

(A) 17 世紀前期 (B) 18 世紀前期
(C) 19 世紀後期 (D) 20 世紀後期

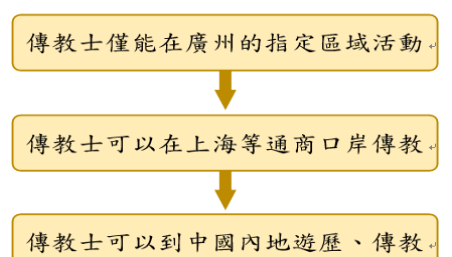
審判概況。	
審判地點。	廈門的美國領事法庭。
裁決者。	美國駐廈門領事館總領事。
陪審員。	三人，包括一名美國領事館代表。
被告。	美國公民 J.H. Edward。
罪名。	於中國非法徵募及販運勞工至國外。
判決。	依美國法律判決一年監禁、罰款一千美元。

() 18. 清末之時，曾有人主張「師夷長技以制夷」，而後恭親王則提出「自強之術，必先練兵」，並主導新政令的推行，當時朝廷推動改革的重要主張為何？

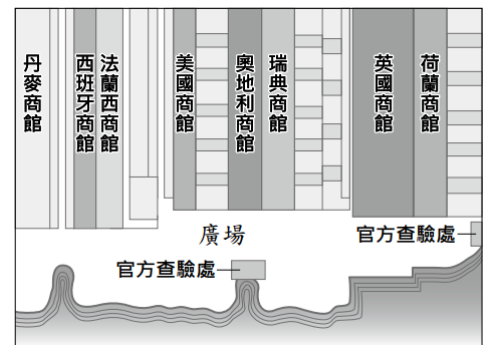
(A) 學習西方科技軍事，以強化中國軍事實力 (B) 全盤西化是走向富強的主要條件
(C) 政治體制的改革是追求富國強兵的基礎 (D) 宣揚中國傳統文化，質疑西方科學知識

() 19. 右圖呈現清中葉以後，朝廷允許外國傳教士在華活動範圍逐漸改變的情形。造成此轉變的原因，最可能是下列何者？

(A) 清帝國對外條約的簽訂 (B) 義和團事件爆發的影響
(C) 清帝國接受美國要求解除鎖國 (D) 中國經濟重心由沿海轉向內地



- () 20. 以下是清末文人對某事件的描述：「當時在官府的默許下，群眾進入天津租界，縱火焚燒教堂、房屋，於是各街市店舖有販售洋貨者，皆用紅紙將招牌上的『洋』字糊上，以防群眾焚掠。即便是一般家庭日用之物，如洋燈、鐘錶等類，也都掩藏不敢使用。」根據上文判斷，此事件最可能是下列何者？ 【107 會考改】
- (A) 鴉片戰爭 (B) 英法聯軍 (C) 義和團事變 (D) 甲午戰爭
- () 21. 1900 年，在慈禧太后默許民眾攻擊教堂及傳教士，甚至包圍北京的外國使館後，美軍第十五步兵團首次被派遣至中國保護僑民。清朝滅亡後，步兵團為確保美國人在華利益，長期駐守天津。根據上文，美國首次派遣第十五步兵團至中國的原因，最可能是下列何者？ 【109 會考】
- (A) 義和團事件爆發，引發八國聯軍 (B) 鴉片戰爭結束後，要求給予特權
(C) 趁英法聯軍之際，脅迫開放天津 (D) 利用甲午戰爭，脅迫清朝從中獲得利益
- () 22. 右圖是某一港口附近的各國商館平面示意圖，根據圖中內容判斷，此一港口最可能是下列何者？ 【109 會考】



三、題組：共 8 題（共 32 分：23-30 題，每題 4 分）

- (一) 近年來，由於中共的文攻武嚇，台海軍情升級，國際更加關注台灣的動向，顯示台灣在國際上的地位愈顯重要。回想十九世紀，台灣的地位也是因戰爭而產生巨大的改變：
- () 23. 「照得日本欺凌中國，要求割讓我國土台灣，……吾台民誓不服倭，與其事敵，寧願戰死。爰經會議決定，台灣全島自立，改建民主之國。」請問此事件的背景是哪一場 戰爭？
- (A) 鴉片戰爭 (B) 英法聯軍 (C) 中法戰爭 (D) 甲午戰爭。
- () 24. 清朝統治台灣時，可以分為清帝國前期與清帝國後期，而清帝國後期的開始與台灣地區的開港通商有關。請問：清朝之所以開放台灣地區的港口，是受到什麼事件的影響？
- (A) 鴉片戰爭 (B) 英法聯軍 (C) 中法戰爭 (D) 甲午戰爭。
- (二) 以下為小玲與同學對中國歷代選才辦法的討論，請根據其內容回答問題。

小弘說：「漢代的選才辦法最好，因為它具有彈性，地方上名聲良好的子弟也可被推舉到中央。」

阿道說：「魏晉南北朝時，被選拔的人才有社會和家族的實力，但是由於家世為品評重點，個人的能力未必受重視。」

大國說：「隋唐時期以後的選才辦法最公平，即使出身寒微，也可能仕途亨通、光耀門楣。」

中中說：「大國所言沒錯，雖然這種辦法在清廷覆亡前正式廢除，不過，這種選才的辦法已成為中國的傳統。」

（參考資料：高明士，東亞教育史的回顧與展望。）

- () 25. 小弘、阿道、大國提及的選才辦法分別為何？
- (A) 推舉孝廉、科舉制度、九品官人法 (B) 推舉孝廉、九品官人法、科舉制度
(C) 九品官人法、科舉制度、推舉孝廉 (D) 九品官人法、推舉孝廉、科舉制度
- () 26. 大國、中中提及的選才辦法在哪場改革中廢除？
- (A) 庚子後新政 (B) 立憲運動 (C) 戊戌變法 (D) 自強運動
- (三) 請閱讀以下徵婚啟事的內容，並回答問題：

今有某君，北來遊學。此君尚未娶婦，意欲訪求天下有志女子，聘定為室。其主義如下：一要天足。二要通曉中西學術門徑。三聘娶儀節均照文明通例，盡除中國舊有之陋俗。如有能合以上諸格及自願出嫁又有完全自主權者，勿論滿漢新舊、貧富貴賤等均可。

（資料來源：改寫自大公報，1902/2/6）

- () 27. 以上資料，反映晚清社會中，傳統的婚姻模式受到挑戰。這種狀況，應與下列何者有關？
- (A) 儒家思想 (B) 門當戶對 (C) 自由思想 (D) 道家思想
- () 28. 若你是這位某君在晚清時代的好友，你會建議他至哪一城市，才最有可能找到理想的婚姻伴侶？
- (A) 上海 (B) 瀋陽 (C) 杭州 (D) 西安

(四)自古以來，中日關係始終緊密。中國一直是日本學習的模範與榜樣，舉凡日本的文字、衣冠、宗教、律令、生活習俗……等無一不受中國，特別是「唐風」的影響。而中日的歷史發展也有著許多的相似之處，中國曾經鎖國（閉關自守），後來遭到歐美列強的侵逼，才打開門戶。日本竟然也與中國類似，曾經鎖國，後來也是因為遭受列強的威脅，才打開了門戶。請問：

- () 29. 日本之所以會從鎖國走向開港通商，進而走向改革之路，起因為何？
- (A) 受到英國船堅炮利的威脅，不得已只好開放通商
 - (B) 受到美國「黑船事件」的影響，只好結束閉關自守
 - (C) 受到荷蘭「蘭學」的科技啟發，決定放手開放門戶
 - (D) 看到清朝被欺壓，識時務者為俊傑，主動開港通商。
- () 30. 位於北海道的函館市，因 19 世紀西力船堅砲利的衝擊之下，成為日本最早開港通商的港口之一。有關函館市開港通商的敘述，下列何者正確？
- (A) 此西力船堅砲利的衝擊，指的是牡丹社事件
 - (B) 此西力船堅砲利的衝擊，與俄國有關
 - (C) 促成函館市開港通商的歷史事件、也間接促成西化改革的明治維新運動
 - (D) 因中國與荷蘭幫助日本抵禦列強，只允許荷蘭與中國可至函館通商貿易